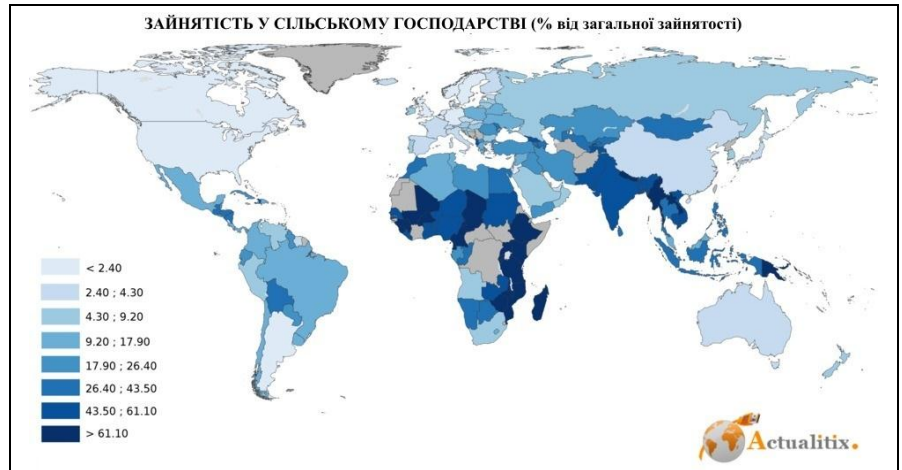


# Завдання першого туру Всеукраїнської учнівської Інтернет-олімпіади з географії

## 9 клас

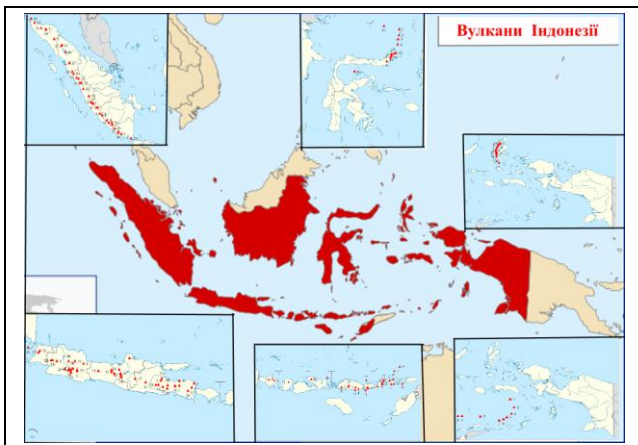
1. Проаналізуйте карту (праворуч), назвіть регіони і країни світу з низькою та високою зайнятістю у сільському господарстві. З чим пов'язана така різниця? Яке місце серед інших країн за зайнятістю у цій сфері займає Україна?

Охарактеризуйте природні (земельні й агрокліматичні ресурси) та соціально-економічні чинники у розвитку й розміщенні аграрного виробництва світу. (10 балів)



2. Що таке індекс людського розвитку (ІЛР)? Які показники беруться до уваги при розрахунках ІЛР? Яким є ІЛР України? Поясніть, за рахунок чого Україна може збільшити цей індекс.

(10 балів)



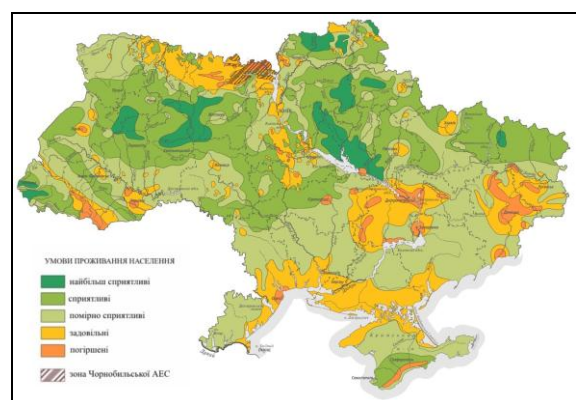
3. Індонезії належать практично всі світові рекорди, пов'язані з вулканічною активністю. Тут розташовано найбільше число активних вулканів - 78 (карта ліворуч); зафіксовано 1250 вивержень (друге місце після Японії); сталася найбільша кількість (114) вивержень із людськими жертвами та вивержень (195) із порушенням інфраструктури. Виверження супервулкана Тоба вважається найпотужнішим на планеті, а вибухи вулканів Тамбора і Кракатау мали планетарні наслідки.

Поясніть причини такої високої вулканічної активності саме у цьому регіоні.

(10 балів)

4. Перед Вами – карта умов проживання населення України (праворуч). Умови оцінено від найбільш сприятливих до погіршених за комплексом факторів – кліматичних, ґрунтово-рослинних, екологічних, рекреаційних та ін. Чи згодні Ви з такою оцінкою? Підберіть для підтвердження своєї думки приклади регіонів України з різноманітними умовами проживання та поясніть, чому автори карти чи Ви вважаєте, що умови там сприятливі для населення або ні.

(10 балів)



5. Охарактеризуйте вже існуючі у світі такі типи електростанцій: геотермальні, припливні, хвильові, сонячні, вітрові, біоелектростанції. Оцініть доцільність будівництва електростанцій названих типів в Україні. Які з них уже існують у нашій країні? Обґрунтуйте, електростанції яких названих типів, де і чому Ви б розмістили в Україні; які електростанції будувати не варто?

(10 балів)